

学習日 () 月 () 日 名前 ()

1 次の問いに答えましょう。

2 $5 \div 9$ の商を分数で表しましょう。☆☆

(1) 100 を 45 個集めた数を書きましょう。☆☆

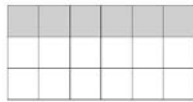
答え _____

(2) この長方形の黒い部分を表す分数を、下の

1 から 4 までの中から 1 つ

選んで、その番号を書きま

しょう。☆☆



- 1 $\frac{1}{4}$ 2 $\frac{1}{3}$ 3 $\frac{6}{12}$ 4 $\frac{2}{3}$

答え _____

(3) 2L のジュースを 3 等分すると、1 つ分の量は
何 L ですか。答えを分数で書きましょう。

☆☆

答え _____ (L)

(4) 次の分数のうち、 $\frac{1}{2}$ より大きいものはどれ

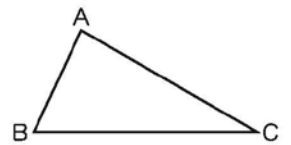
ですか。下の 1 から 4 までの中から選んで、

その番号を書きましょう。☆☆

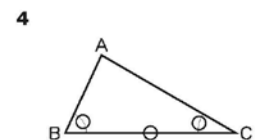
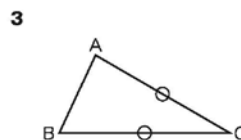
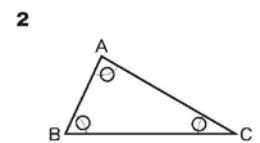
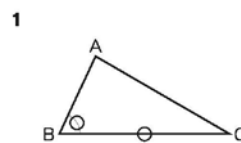
- 1 $\frac{3}{5}$ 2 $\frac{3}{6}$ 3 $\frac{3}{8}$ 4 $\frac{3}{10}$

答え _____

3 右の三角形 ABC と同
な三角形をかくために、
三角形 ABC のどの辺の長
さや角の大きさを測れば
よいかを考えます。



次の 1 から 4 は、辺の長さや角の大きさを測
るところに ○ 印をつけたものです。三角形 ABC
と合同な三角形をかくことができるものを 1 つ
選んでその番号をかきましょう。☆☆



答え _____