

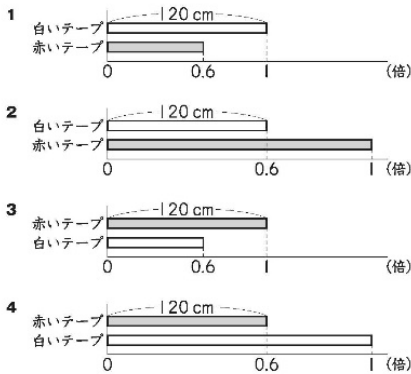
学習日 () 月 () 日 名前 ()

- 1 赤いテープと白いテープの長さについて、次のことがわかっています。

赤いテープの長さは120cmです。
赤いテープの長さは、白いテープの長さの0.6倍です。

赤いテープと白いテープの長さの関係を正しく表している図はどれですか。

右の1から4までのの中から1つ選んで、その番号を書きましょう。☆☆☆



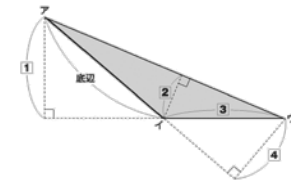
答え _____

- 2 答えが $12 \div 0.8$ の式で求められる問題を、下の1から4までのの中から**すべて**選んで、その番号を書きましょう。☆☆☆

- 1 1mの重さが12kgの鉄の棒があります。この鉄の棒0.8mの重さは何kgですか。
- 2 0.8Lで板を12m²ぬることができるペンキがあります。このペンキ1Lでは、板を何m²ぬることができますか。
- 3 赤いテープの長さは12cmです。白いテープの長さは、赤いテープの長さの0.8倍です。白いテープの長さは何cmですか。
- 4 長さが12mのリボンを0.8mずつ切っていきます。0.8mのリボンは何本できますか。

答え _____

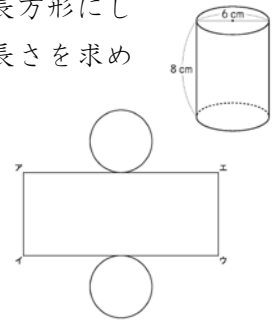
- 3 下の三角形アイウの面積の求め方を考えます。辺アイを底辺としたとき、三角形アイウの高さはどこの長さになりますか。1から4までのの中から1つ選んで、その番号を書きましょう。



☆☆

答え _____

- 4 右のような円柱があります。この円柱の展開図を、下のように側面を長方形にしてかきました。辺アエの長さを求める式と答えを書きましょう。ただし、円周率は3.14とします。☆☆



答え 式 _____ 答え _____ (cm)

- 5 右の円グラフは、学級全体の人数をもとにして、家で犬を飼っている人の割合を表したものです。



- 犬を飼っている人は8人で、学級全体の人数の25%にあたります。
学級全体の人数は何人ですか。答えを書きましょう。☆☆

答え _____ (人)